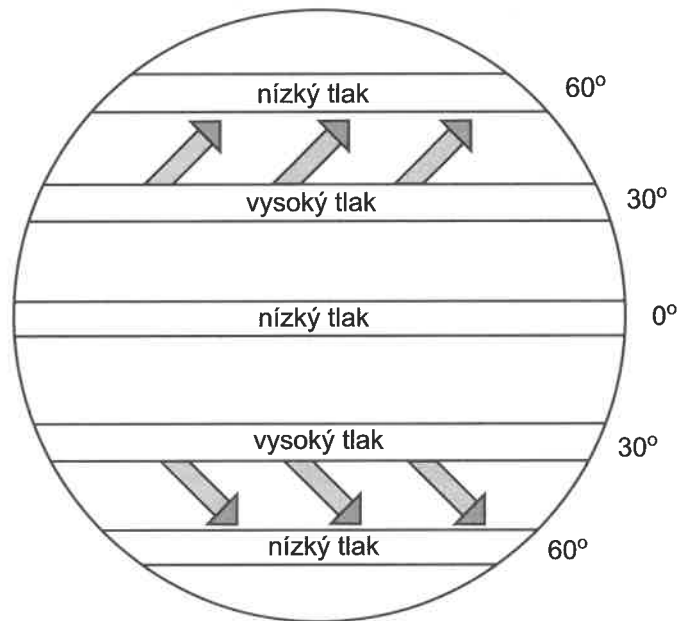
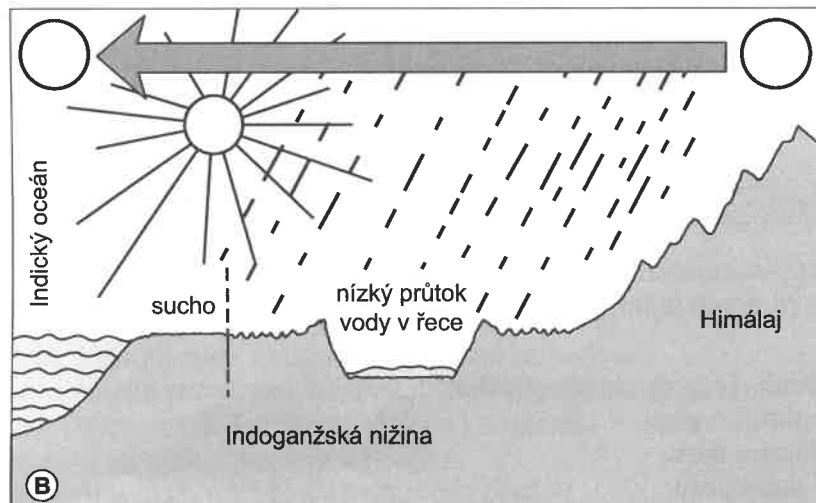
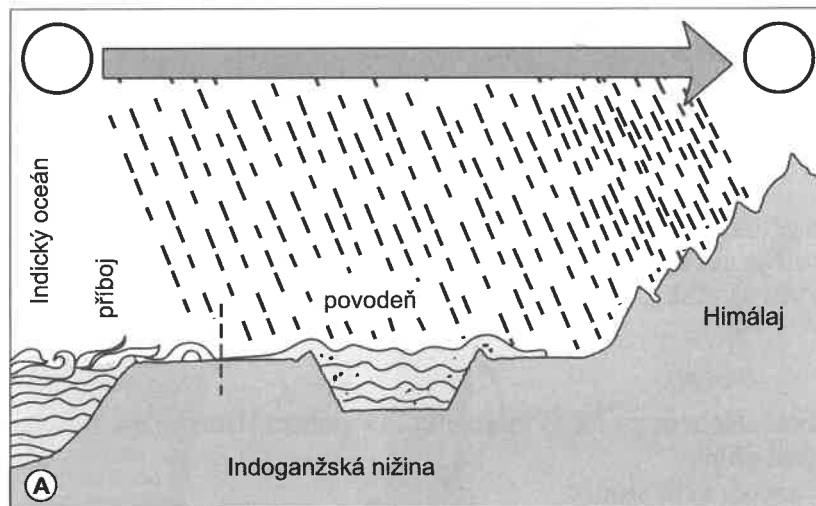


- 3 **Pasáty.** Pracuj s obrázkem 26 a doplň do něho červenými šipkami *severovýchodní pasáty* a modrými šipkami *jihovýchodní pasáty*.



Obr. 26

- 4 **Monzuny.** Pracuj s obrázkem 27a, b. Vybarvi: tmavomodře vodu Indického oceánu, světlemodře vodu v řekách, hnědě pevninu, žlutě Slunce. Vyhledej si v atlase světa mapu Jižní Asie a najdi: pohří Himálaj, Indoganžskou nížinu, Indický oceán.



Obr. 27